



**Sveiki, Kauno žaliakalnio lopšelio – darželio grupės
„Vaivorykštė“ vaikučiai.**

2020-05-12

Šarlote-Meile, Vilte, Augustinai, Dominykai, Auguste,
Saule, Kristupai, Rusne, Jori, Mante, Aja, Teofile, Rūta,
Marija, Tajau, Jokūbai, Benai, Gabriele, Matai!

Auklėtoja Edita sveikinas su jumis šį žvarboką
rytą. B-R-R-R, ŠALNA GRĮŽO! Gal paklydo?



Ar pavyko pamatyti vaivorykštę, kai gausiai lijo?

Šį kartą ir man nepavyko, nes saulutė pro debesį nepasirodė ir neapšvietė lietaus lašelių. Bet džiaugiuosi, kad vakar prisiminėme vaivorykštės spalvas. Vaivorykštė dar mus pradžiugins!

**AČIŲ DARBŠTUOLIAMS IR JŲ
PAGALBININKAMS**, [linkiu](#) nesusalti per šalnos
vizitą!



O kokio ilgio gali būti vaivoryktė? Filmuke pastebėjote, kad įvairaus dydžio ir formos. Daugelis panašių daiktų skiriasi savo dydžiu ir ilgiu. Pažymėkite nuo mažiausio iki didžiausio 1, 2, 3.

Name: _____

Score: _____

Ordering Sizes

Write 1 to 3 to show the order from shortest to longest object.

1)














2)

3)













Write 1 to 3 to show the order from longest to shortest object.

5)













7)













Šiandien patyrinėkime ir pamatuokime

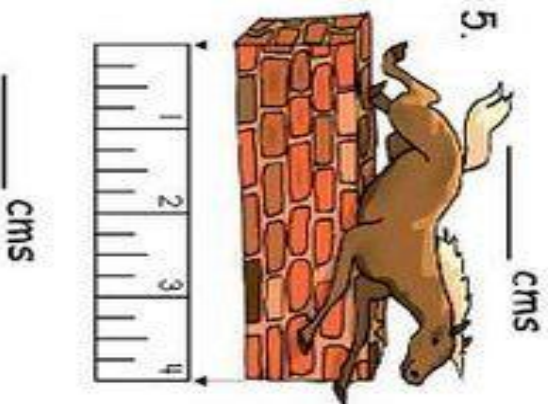

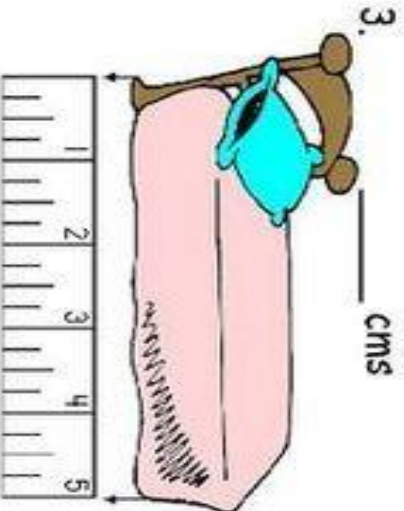
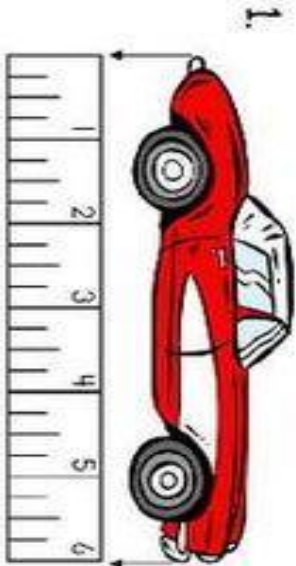
Įrašyk, arba apžiūrėk, kokio ilgio daiktai. Kas ilgiausia?

Score

01.01.02.002.5

Name: _____ Subject: Year 1 Numeracy
Date: _____ Unit: Measuring in cm's

Write how long each item is in centimetres.



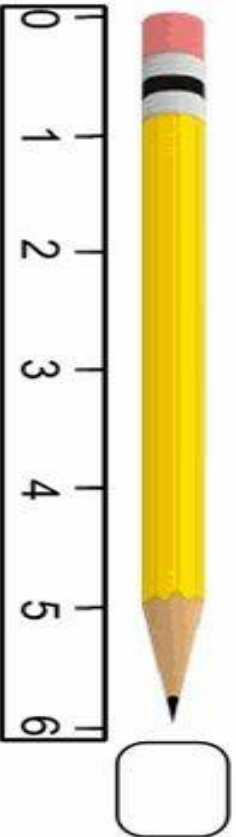
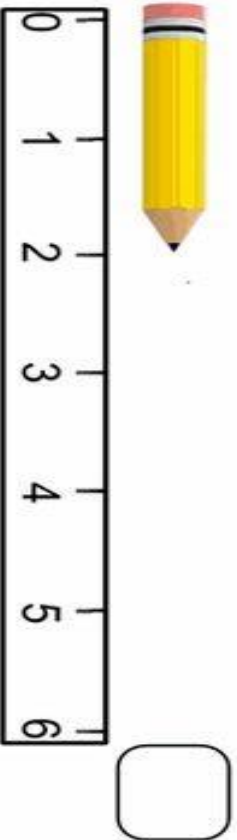
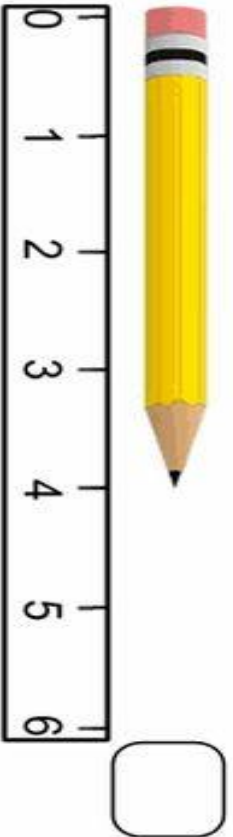
Pažymėk, kokio ilgio pieštukai. Kelintas iš eilės trumpiausias?



Using a ruler to measure length

Kindergarten Measurement Worksheet

Measure the length of each pencil and write it in the box.



Name : _____

Score : _____

Measuring Objects

Measure each object to the nearest half centimeter.

1)




2)




3)



4)



5)



Sunumeruok nuo trumpiausio iki ilgiausio. Gali pažymėti ilgį .

IKI GREITO PASIMATYMO! SUSITIKSIME RYTTOJI
LAIMINGOS DIENELES, O PO LIETUCIO-SAULELES!



Sweet baby hit