

Priešmokyklinės Žiedelių
grupės
Vaikučius kviečiame į idomią
savaitės veiklą



DRAUGŲ BŪRYJE

DOMINYKOS
Nepamirškime

7

GIMTADIENIS!
pasveikinti!!!




LABAS RYTAS pelėdžiukai!!!

Savaitės tema:
DRAUGŲ BŪRYJE

ŠIANDIEN
antradienis:

4


PAMOKĖLES



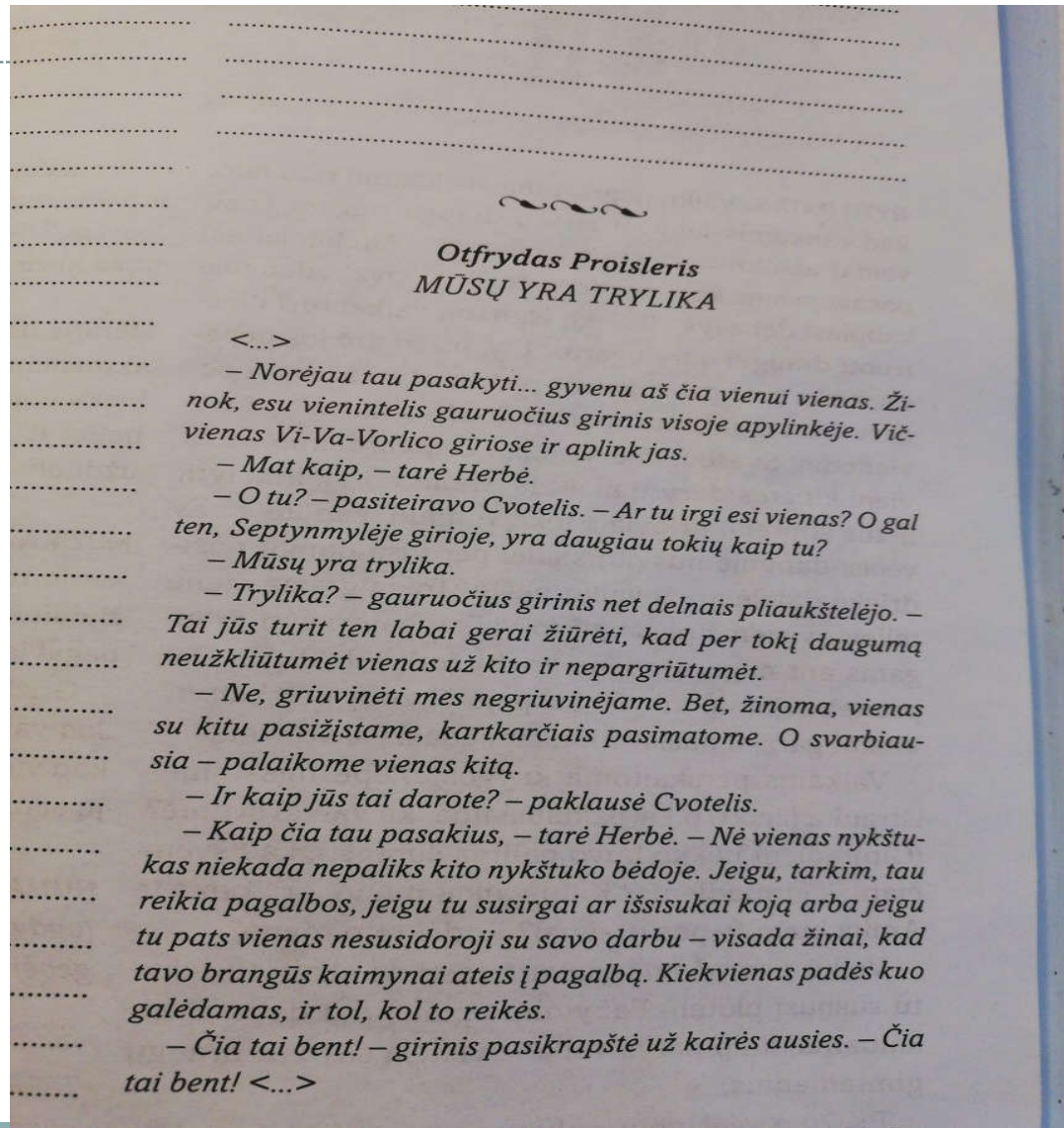
1 PAMOKĖLĖ

NEPAMIRŠK ATLIKTI
UŽDUOTIS!

- EMA Pamokos.lt
 - OPA-PA užduočių
bloknatas
- UB 16,17 IR 18
UŽDUOTYS
(žiūrėti gegužės
Menuo)



2 pamokėlė Klausymo užduotis (vaizdo įrašas)



2 pamokėlė pasakojimas, „MŪSŲ YRA TRYLIKA”



KLAUSYMO UŽDUOTIS

- AR NYKŠTUKAI BUVO DRAUGIŠKI?
- KODĖL TU TAIP MANAI?
- KAM SMAGIAU – TRYLIKAI NYKŠTUKŲ AR VIENAM GIRINIUI?
- KĄ TU GIRINIUI PATARTUM!

MIŠKO GIRINIS



3 pamokėlė AŠ SAUGUS, NES ŽINAU!



Kuriame paveikslėlyje vaikas elgiasi nesaugiai?




Ką reiškia šios šviesoforo spalvos?



Ar pažįsti kelio ženklus?



Kas atsitiko berniukui? Kokio kelio ženkle jis nepamatė?



4 pamokėlė

Kiškių matematika

PAGALVOK IR IŠSPREŠK!!!



Four yellow puzzle pieces with math problems and question marks. Each piece has the 'edtech' logo in the bottom right corner.

- 5 ? 0 = 5
- 5 + ? = 7
- 10 - 4 = ?
- ? + 8 = 10

A grid of numbers on a forest background. The numbers are arranged in a 4x3 grid. The first row has a single number -3. The second row has 9, 3, and 4. The third row has 5, 8, and 2. The fourth row has 6, 7, and 10. There is a small blue circular icon in the bottom right corner.

-3		
9	3	4
5	8	2
6	7	10



GRAŽIOS SAVAITĖS!